


بیست سری تست هوش جدید از ساده تا پیشرفته

چاپ ششم

تست هوش




دبورا هرکان

ترجمه و تنظیم : حمید رضا بلوچ

تست هوش

IQ



WWW.ACHMAZSTORE.IR

[Faint, illegible text, likely bleed-through from the reverse side of the page.]

روش‌های تست



WWW.ACHMAZSTORE.IR

سرشناسه: هرکان، دبورا، Hercun, Deborah ویراستار. عنوان و پدیدآور: تست هوش : ■
IQ: صدها تست هوش شگفت‌انگیز برای تقویت خلاقیت و توان فکری استعداد‌های
درخشان (تیزهوشان) / [ویراستار] دبورا هرکان: ترجمه و تنظیم حمیدرضا بلوچ. ■ مشخصات
نشر: تهران: شباهنگ، ۱۳۸۶. ■ مشخصات ظاهری: ۲۲۰ ص. ■ مصور. ■ وضعیت فهرست‌نویسی:
فیبا ■ شابک: ۸-۱۲-۲۷۳۲-۹۶۴-۹۷۸ ■ یادداشت: عنوان اصلی: Improve your IQ: over
500 mind - Bending puzzles, 1998 ■ عنوان دیگر: صدها تست هوش شگفت‌انگیز برای
تقویت خلاقیت و توان فکری استعداد‌های درخشان (تیزهوشان) ■ موضوع: آزمون‌های
هوش. ■ شناسه افزوده: بلوچ، حمید، ۱۳۳۸- ■ رده‌بندهای کنگره: ۱۳۸۶ ۵/۳/۴۳۱ BF ■
رده‌بندهای دیویی: ۱۵۳/۹۳ ■ شماره کتابشناسی ملی: ۱۰۵۸۴۲۷

تست هوش

IQ

بیست سری تست هوش جدید

از ساده تا پیشرفته

فروشگاه تخصصی شطرنج

دبورا هرکان

ترجمه و تنظیم: حمیدرضا بلوچ

WWW.ACHMAZSTORE.IR



انتشارات شباهنگ

انتشارات شباهنگ

تست هوش

ACHMAZ

فروشگاه تخصصی شطرنج
دبورا هرکان

حمیدرضا بلوچ

ترجمه و تنظیم

بهار یزدان سپاس

ناظر هنری و چاپ

مازیار حسنی

صدف

لیتوگرافی

نقش ایران

چاپخانه

مهرگان

صحافی

۱۳۹۵

چاپ ششم

۱۱۰۰ جلد

شمارگان

شماره استاندارد بین المللی کتاب (شابک) ۹۷۸-۹۶۴-۲۷۳۲-۱۲-۸

International Standard Book Number (ISBN) 978-964-2732-12-8

حق چاپ محفوظ است

فروشگاه مرکزی: خیابان انقلاب، پلاک ۱۱۹۲، تلفن ۶۶۴۹۱۰۹۸

فروشگاه فروردین: خیابان انقلاب، خیابان فروردین، ساختمان ناشران، پلاک ۱۶، تلفن ۶۶۴۱۳۱۷۵

دفتر مرکزی: خیابان انقلاب، خیابان شهدای ژاندارمری، پلاک ۴۹، تلفن ۶۶۹۶۴۲۳۵-۶ فاکس ۶۶۴۶۰۳۶۵

به نام خداوند جان و خرد

بهره هوش خود را تقویت کنید

این کتاب حاوی صدها تست هوش جالب و شگفت‌انگیز، سرگرم‌کننده، سرگیجه‌آور و در برخی موارد غافلگیرکننده و ملال‌آور است که همه قوای ذهنی شما را مورد سنجش و ارزیابی قرار می‌دهد. این معماهای فکری برای به چالش کشیدن منطق و قدرت استنتاج شما طراحی شده است و همچنین از شما طلب می‌کند که به گونه‌ای خلاقانه و مبتکرانه عمل کنید.

کتاب شامل بیست بخش است و از معماهای ساده هوشی آغاز گشته و به تدریج مشکل و مشکل‌تر می‌شود. اگر به یکباره به سراغ معماهای مشکل بروید ممکن است قادر به حل آنها نباشید و به همین لحاظ دچار ترس و نومی‌دی شوید. ولی چنانچه معماها را از ابتدا و به همان ترتیب که در کتاب آمده است حل کنید و جلو بروید دچار شوک فکری نمی‌شوید و با منطق حل مسایل بهتر آشنا می‌شوید و کم‌کم قدرت می‌گیرید.

برای حل کامل هر معما همه سعی و تلاش خود را به کار ببرید و به شیوه‌های مختلف اقدام به حل آن کنید. در مقابل وسوسه رجوع به پاسخنامه ایستادگی کنید. بعد از این که پاسخ معما را پیدا کردید برای اطمینان از پاسخ خود می‌توانید به پاسخنامه مراجعه کنید. اگر پاسخ به نظرتان اشتباه آمد دوباره به معما رجوع کرده و با دقت بیشتری آن را مورد بررسی قرار دهید. هر چقدر جلوتر بروید با شیوه‌های خلاقانه بیشتری برای حل معماها آشنا می‌شوید و این امر به شما کمک می‌کند که بتوانید معماهای بعدی را بهتر حل کنید. تفکر جنبی یا کناری را امتحان کنید. یکی از کلیدهای حل معماها این است که از زاویه‌ای متفاوت به آنها نگاه کنید. نگرستن به معما از چارچوبی متفاوت می‌تواند در بسیاری از موارد راهگشا باشد.



حل معما یکی از جالب‌ترین فعالیت‌های اوقات فراغت است که به شما امکان می‌دهد هوش و خرد خود را تقویت کنید و در ضمن نحوه تفکر صحیح را به شما آموزش می‌دهد.

این کتاب جنبه‌های مختلف توانمندی‌های فکری شما را برای ساعت‌های مدید به چالش می‌کشد و شما از طریق حل معماهای آن قوای ذهنی و بهره‌هوشی خود را مورد سنجش و بررسی قرار می‌دهید و به شناخت تازه‌تری از خود دست می‌یابید.



درون جدول سمت چپ یک خانه‌ی خالی مشاهده می‌کنید. کدام یک از شکل‌های ۱ تا ۶ را می‌توان در این خانه خالی قرار داد؟

داد؟



ACHMAZ

فروشگاه تخصصی شطرنج

به جای علامت سؤال‌ها باید چه حرفی از الفبا قرار داد؟ این ستون اعداد دارای نظم خاصی است. در جای علامت سؤال چه عددی باید قرار داد تا این نظم حفظ شود؟

؟

۹

۱۶

۲۵

۳۶

پ ر

ت ز

؟ ؟

س ج

ش ی

ح ص

۴

آیا می‌توانید بگویید به جای علامت سؤال‌ها چه اعدادی باید نوشت؟

A

۹	۱۵	۲۱
۳	۵	؟

B

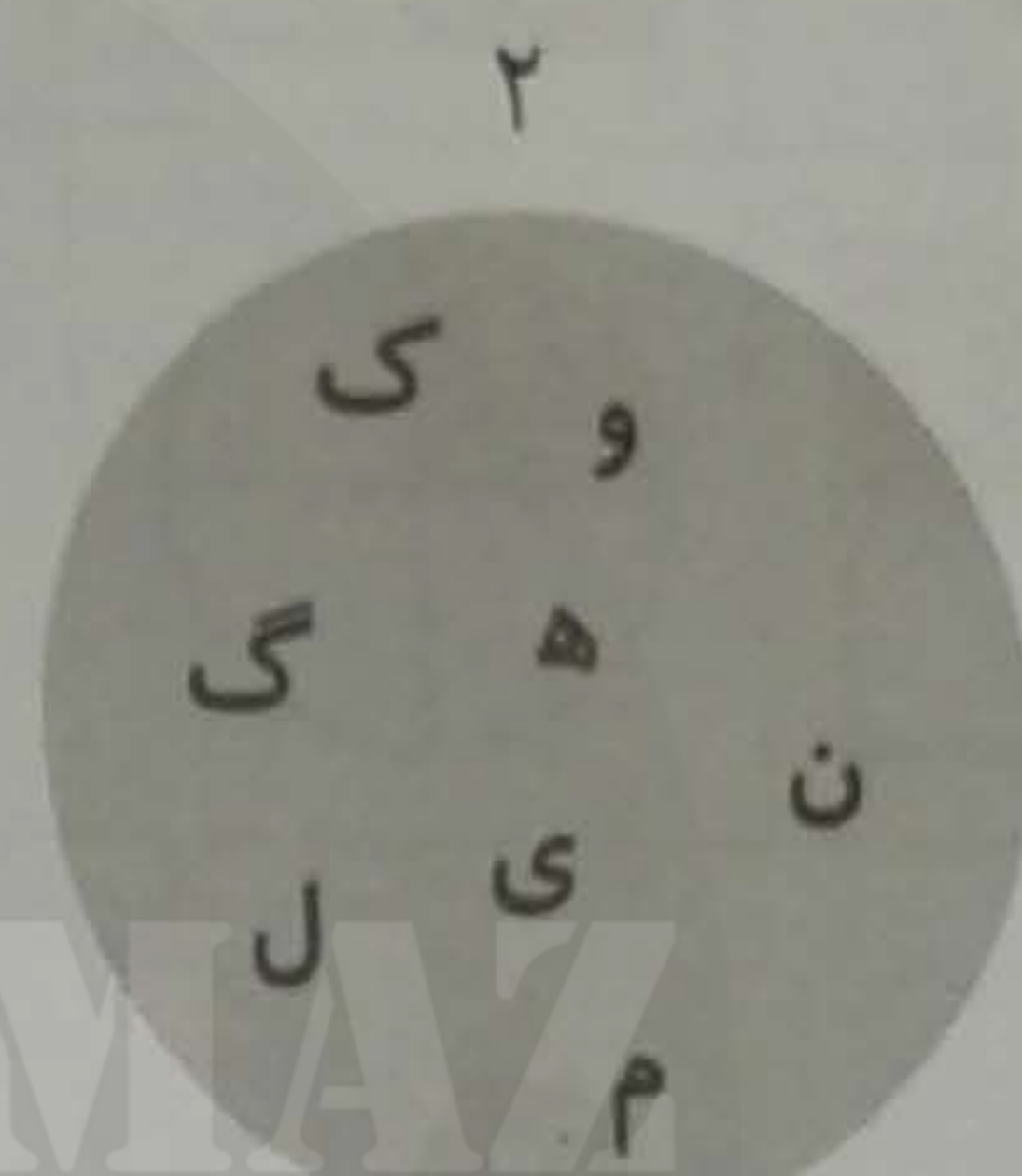

۹	۱۲	۲۰
۲	۵	؟

C

۴	۱۶	۲۴
۲	۸	؟

۵

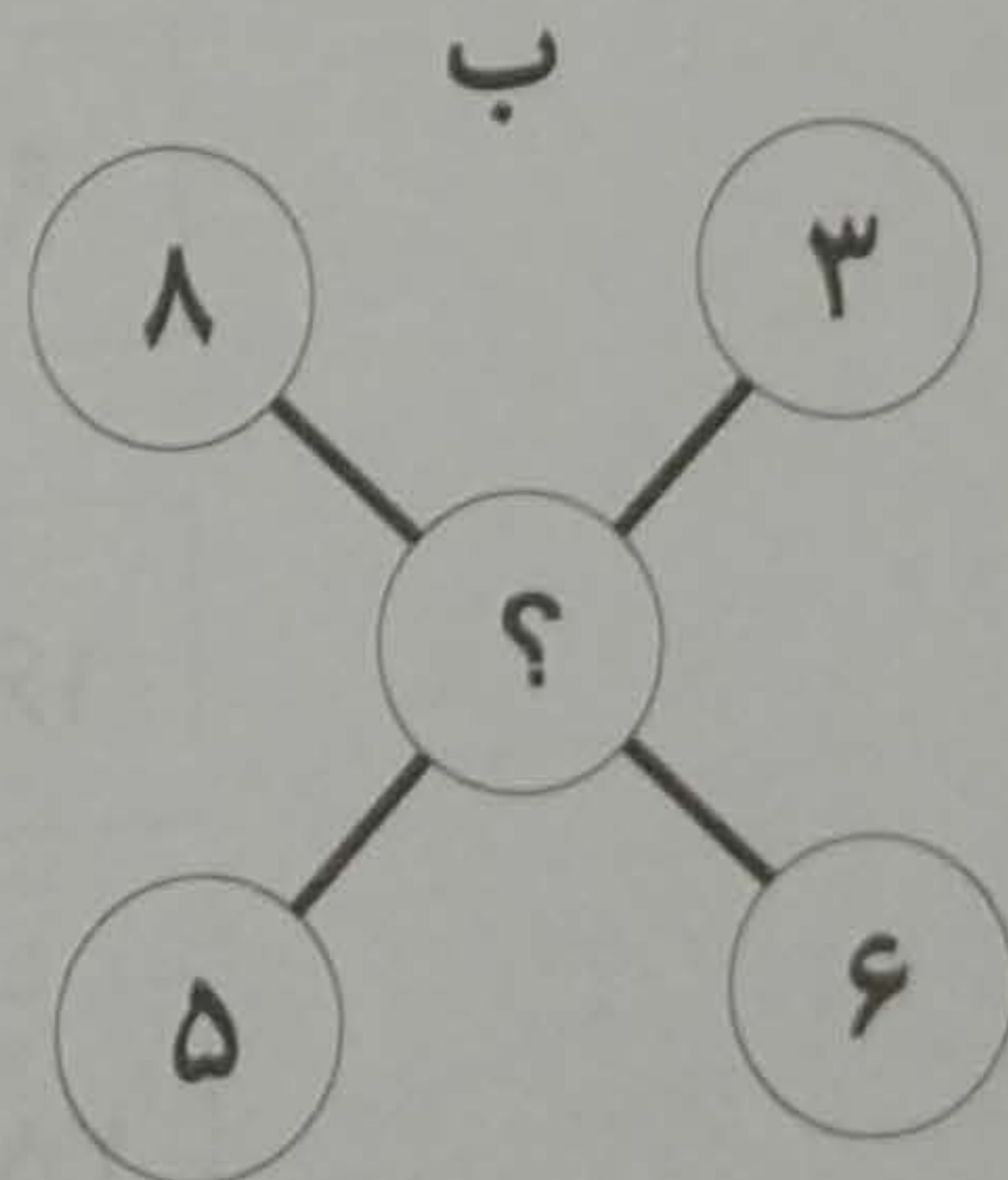
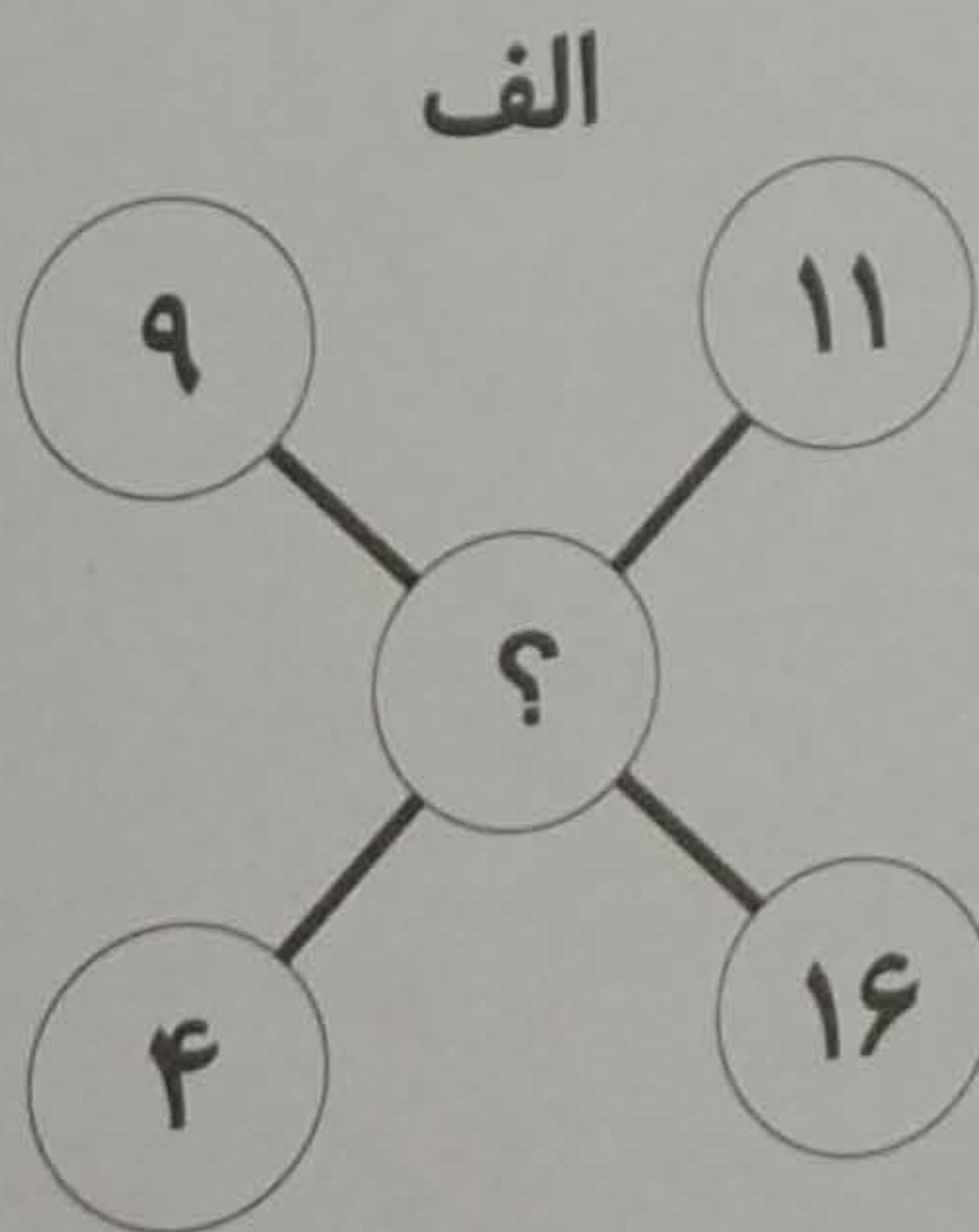
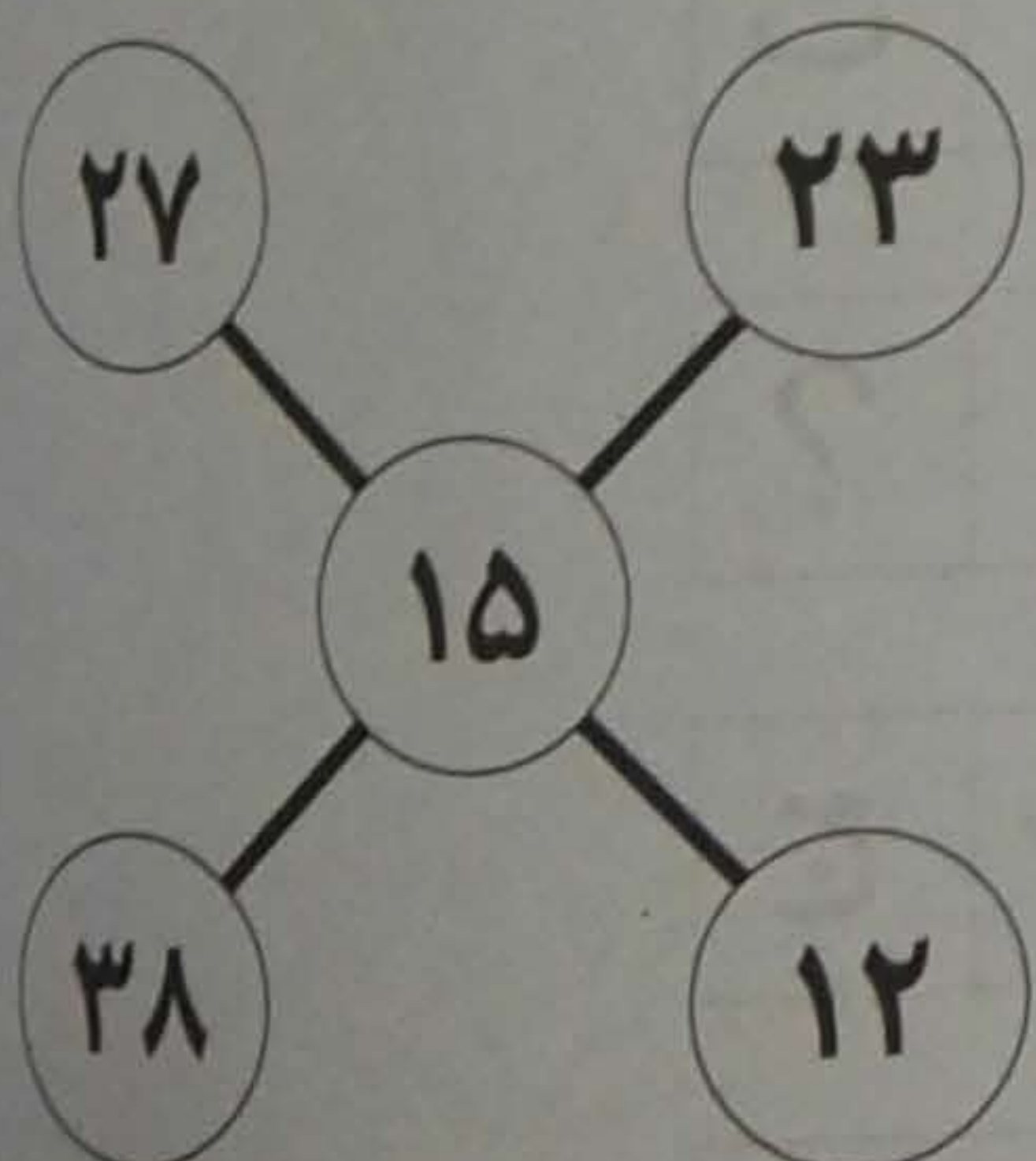
در هر یک از دو دایره زیر، کدام حرف الفبا نظم میان حروف را به هم زده است؟



ACHMAZ
فروشگاه تخصصی شطرنج

۶



به جای علامت سؤال‌ها چه اعدادی باید نوشت؟



بِسْمِ اللَّهِ الرَّحْمَنِ الرَّحِيمِ

بِسْمِ اللَّهِ الرَّحْمَنِ الرَّحِيمِ


عدد ۱۰۰۰۰۰۰۰۰



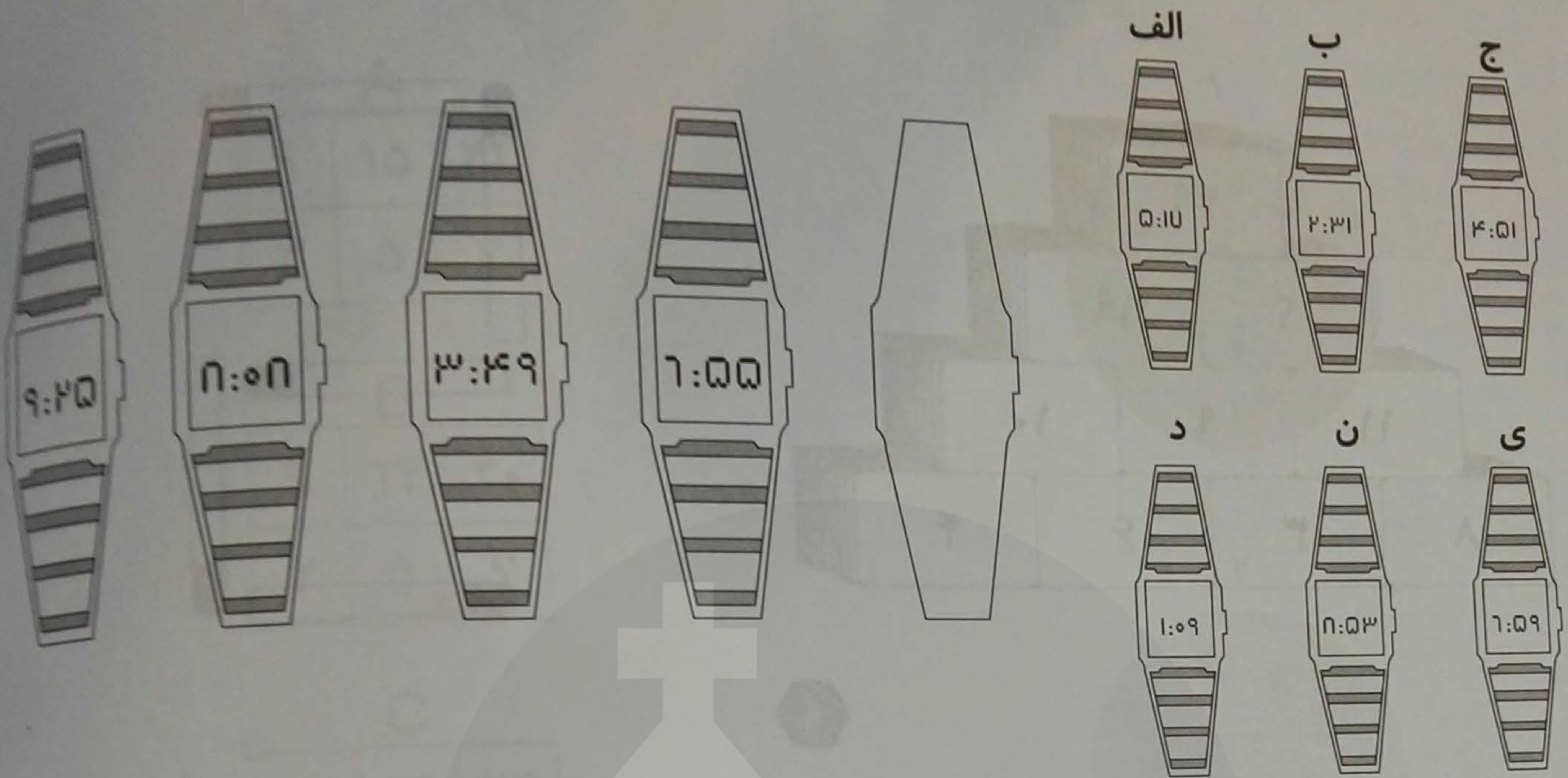
عدد این قطعات یعنی یک میلیارد و هشتصد و بیست و یک میلیون و سیصد و پنجاه و یک هزار و سیصد و پنجاه و یک
فروشگاه تخصصی شطرنج



WWW.ACHMAZSTORE.IR



کدامیک از ساعت‌های الف تا ی را باید در جای خالی قرار داد؟



به جای علامت سؤال چه عددی باید نوشت؟

ب

ث

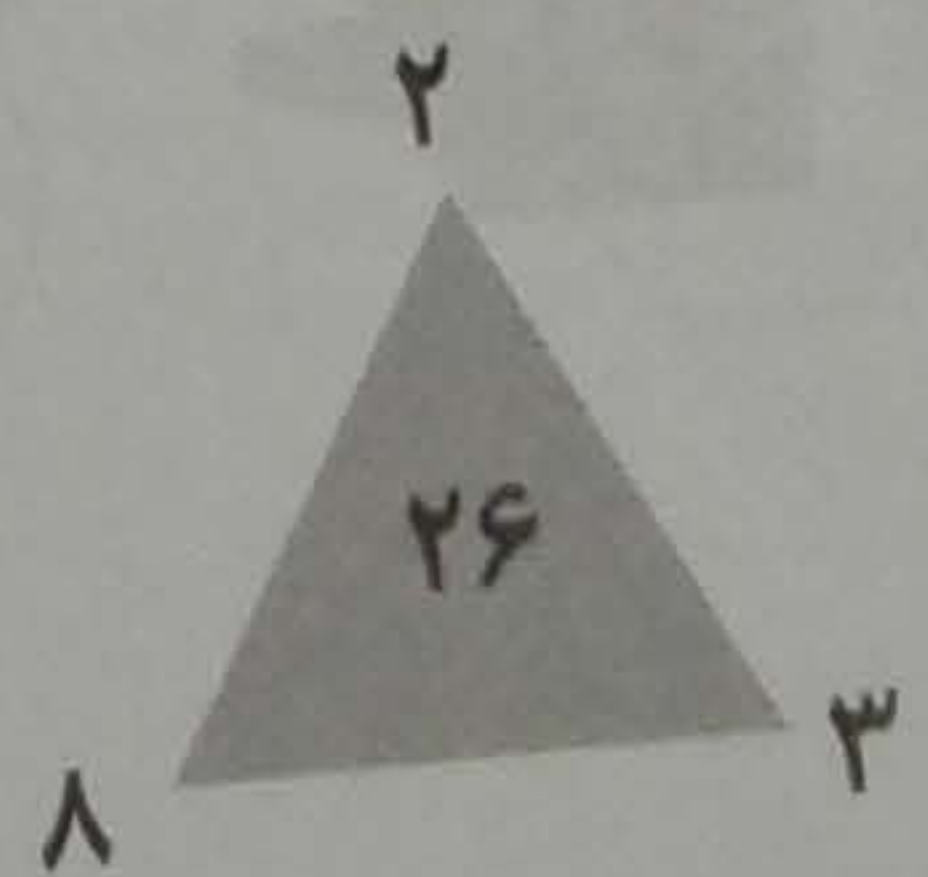
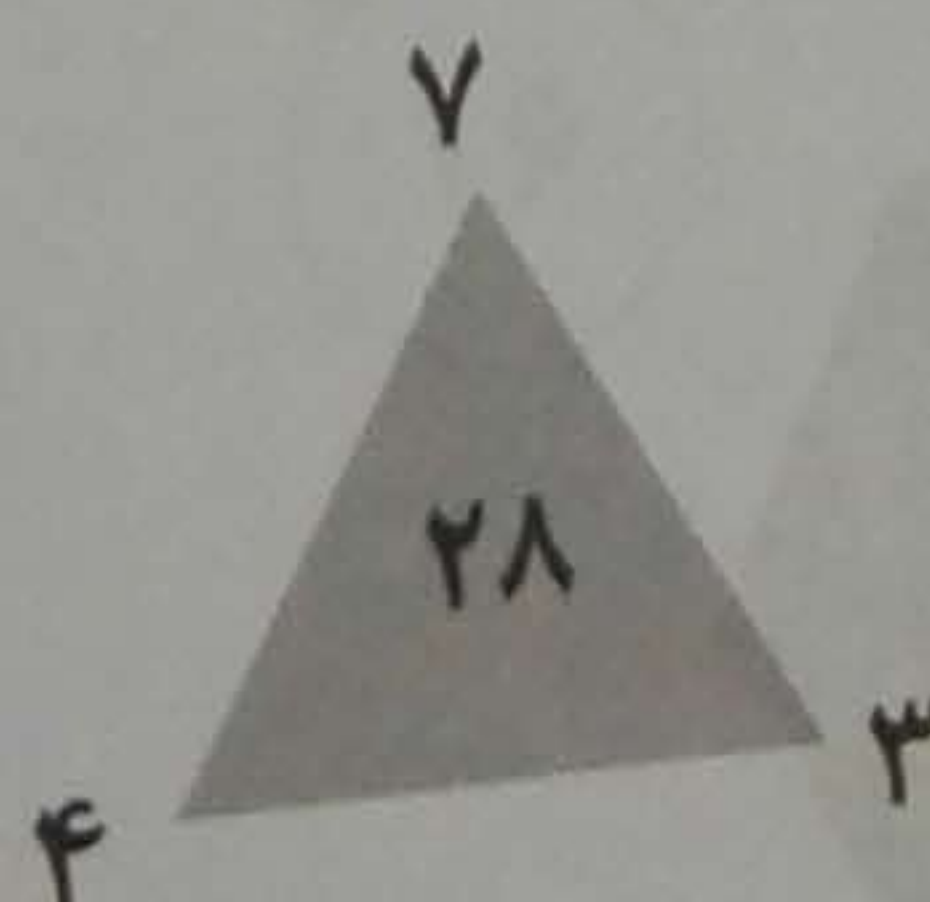
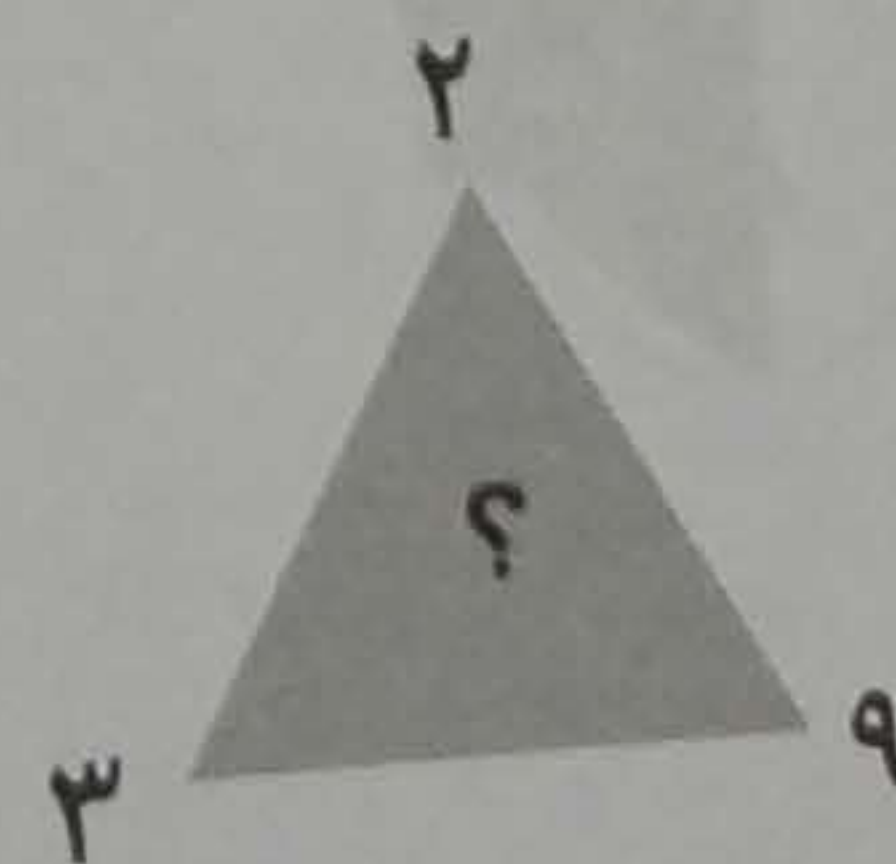
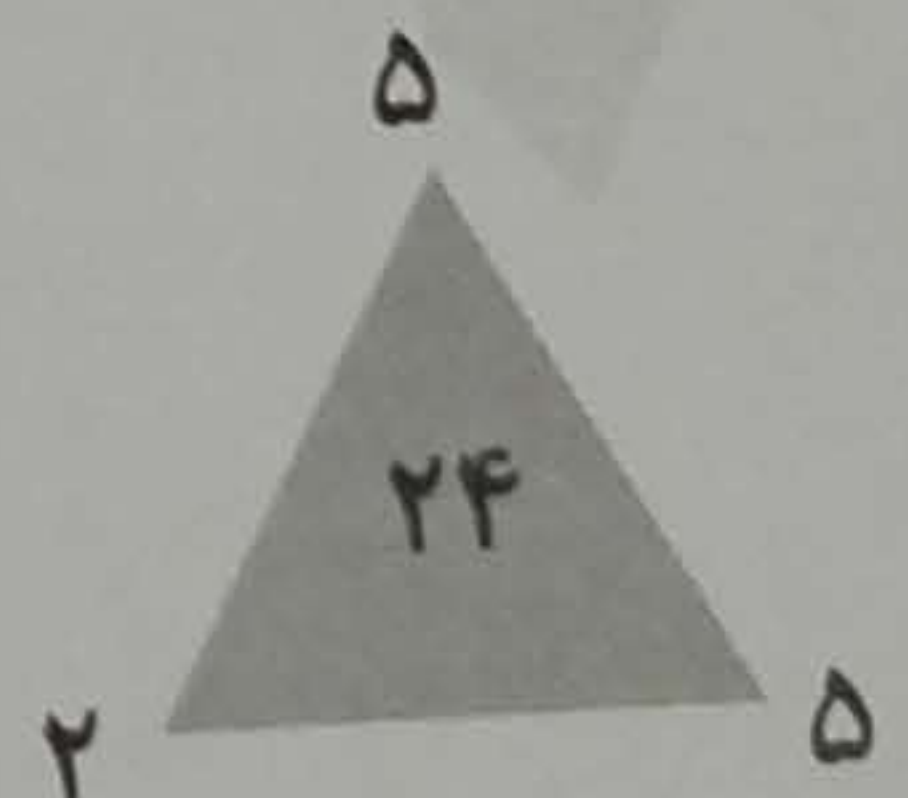
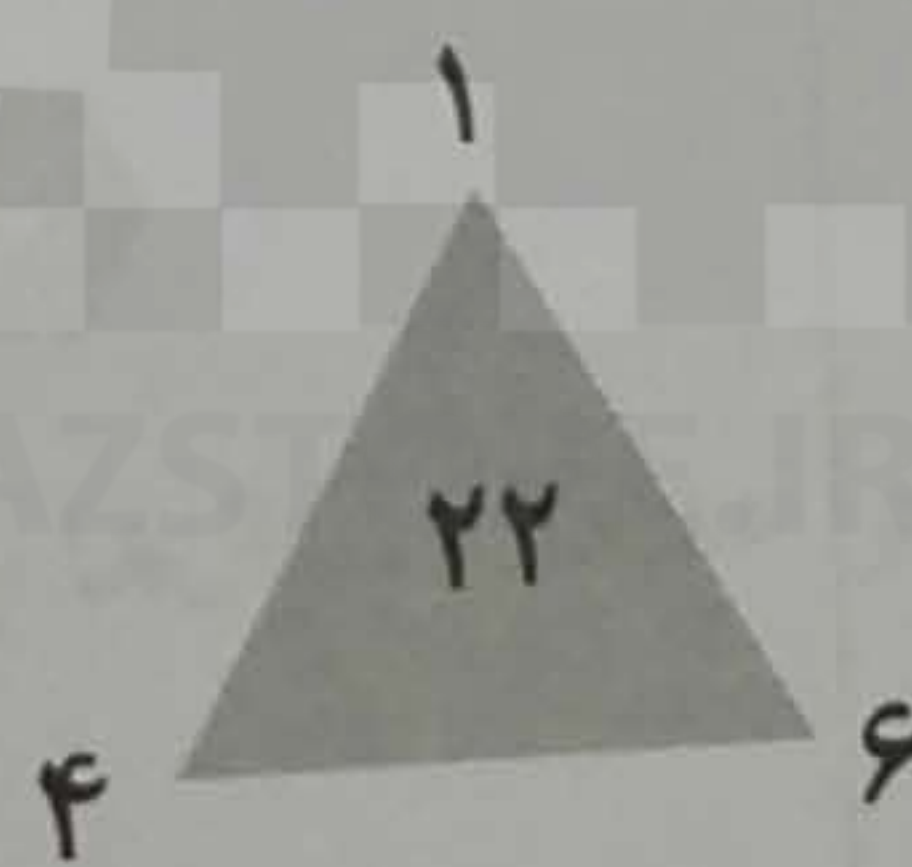
خ

ر

ش

؟

ف



کدام یک از پنج قطعه‌ی زیر را باید در وسط جدول حروف الفبا قرار دهیم تا نظم موجود در جدول حفظ شود؟

ف	ز	ت	م	ع	س	د	ج	پ	الف
ی	غ	ر	پ	ل	ط	ژ	خ	ث	ب
ح	ه	ع	ذ	ب	گ	ط	ز	ح	ت
س	چ	و	ظ			ک	ض	ر	ج
ع	ژ	ج					ق	ص	ذ
گ	ظ	ز					ه	ف	ش
و	ک	ط	ر				ص	چ	و
الف	ن	ق	ض	ذ	پ	گ	ش	ج	ن
پ	ی	م	ف	ص	د	ب	ک	س	ث
ت	ب	ه	ل	غ	ش	خ	الف	ق	ژ

۱

د	الف		
ح	ض	م	ث
ن	ط	خ	ی
ت	ل		

۲

ح	ی		
ل	خ	ض	الف
ت	ط	م	د
ن	ث		

۳

و	الف		
ذ	ن	ج	د
ژ	ک	م	ح
ز	ر		

۴

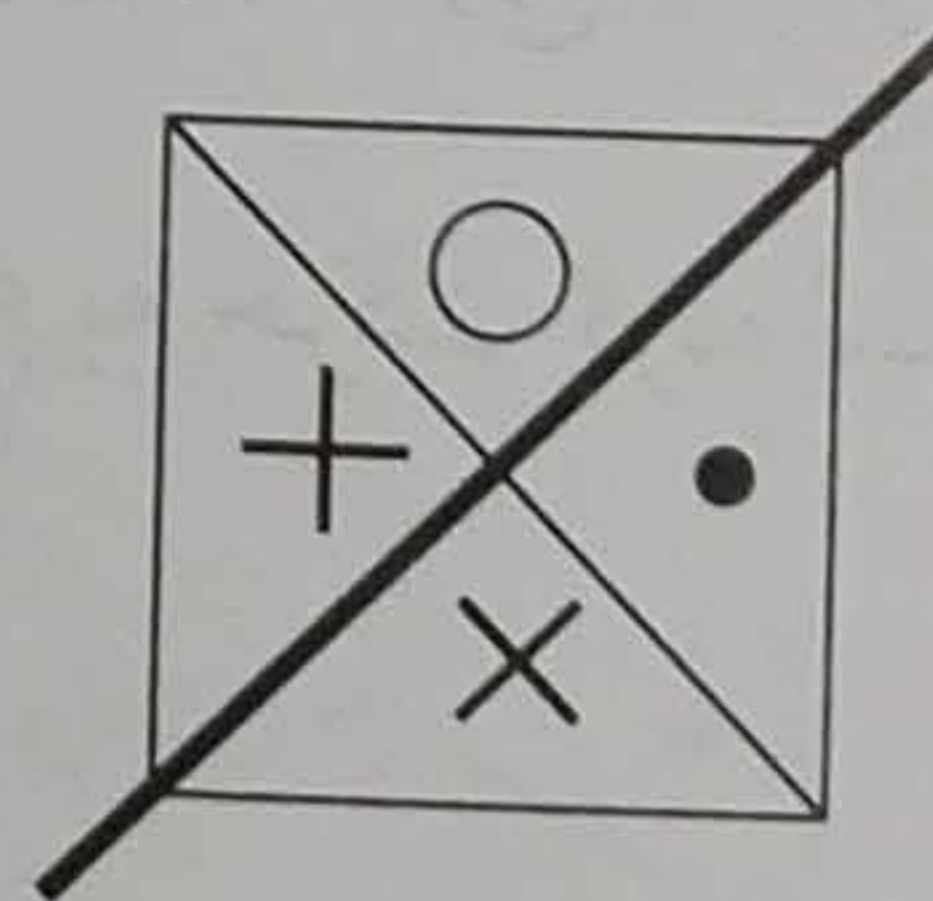
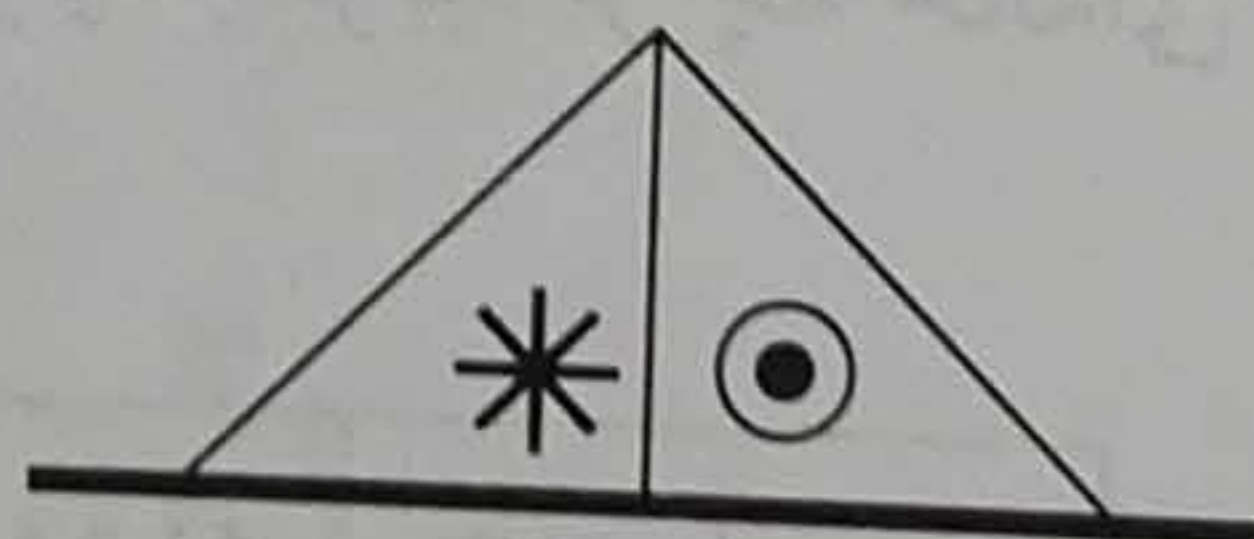
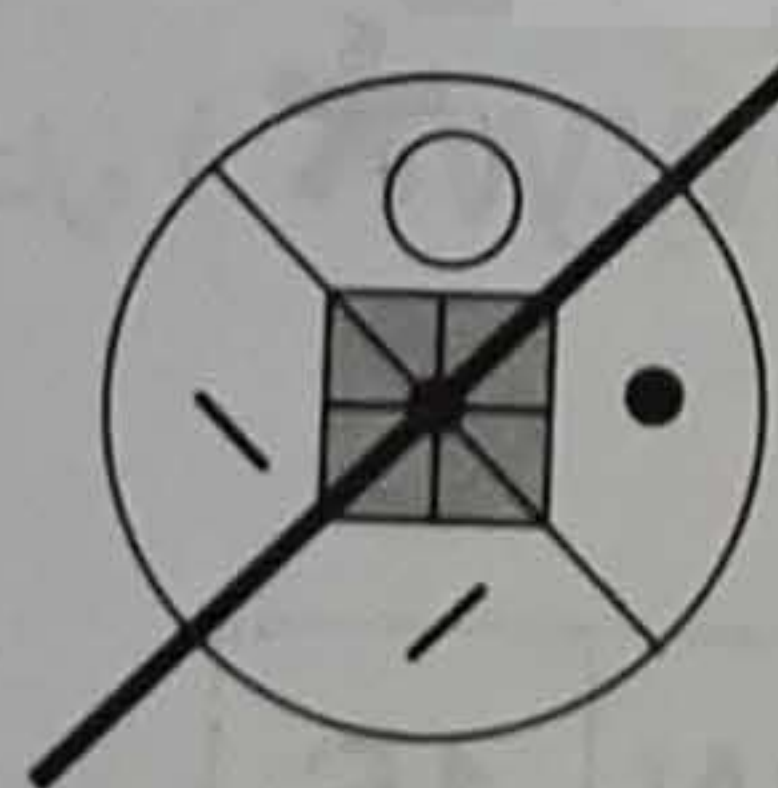
د	الف		
ن	ط	خ	ی
ث	م	ض	ح
ت	ل		

۵

م	ل		
ش	س	ت	ی
ص	پ	ح	چ
ب	خ		

ACHMAZ

فروشگاه تخصصی شطرنج



است به :

C

مثل نسبت

B

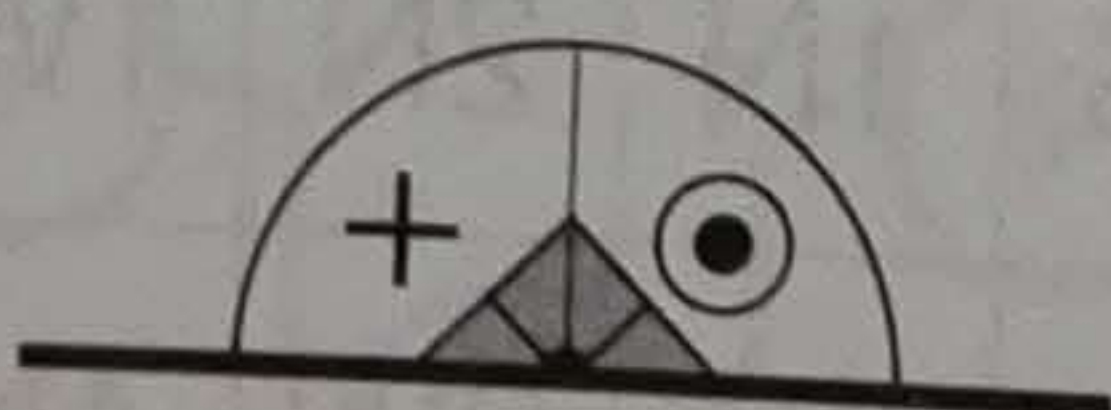
به

A

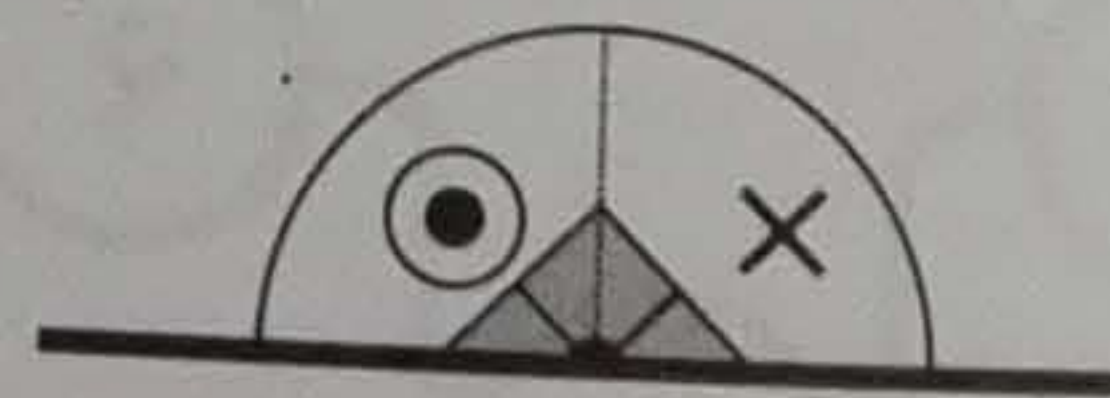
نسبت




D



E



F





ACHMAZ
فروشگاه تخصصی شطرنج

در جدول زیر: جنوب = S ، شمال = N ، غرب = W ، شرق = E ، بنابراین ۲S یعنی دو خانه به طرف جنوب، ۱N یعنی یک خانه به طرف شمال و غیره. متحرکی از یکی از خانه‌های کناری این جدول شروع به حرکت کرده است و سرانجام به خانه ستاره (*) رسیده است. می‌توانید بگویید از چه خانه‌ای شروع به حرکت کرده است؟

2S	2S	1W	2E	4W	1S
4S	2S	2E	2W	3W	5W
2E	2E	2S	3S	1N	*
2E	2S	1N	2N	1W	5W
1N	2E	3E	2W	4N	1W
2E	3E	5N	2E	2N	3N

۱۷

















دو خط صاف در درون این مربع بکشید طوری که آن را به چهار بخش تقسیم کند و در هر بخش سه تا علامت  قرار گیرد.

سه تا * و سه تا  قرار گیرد.



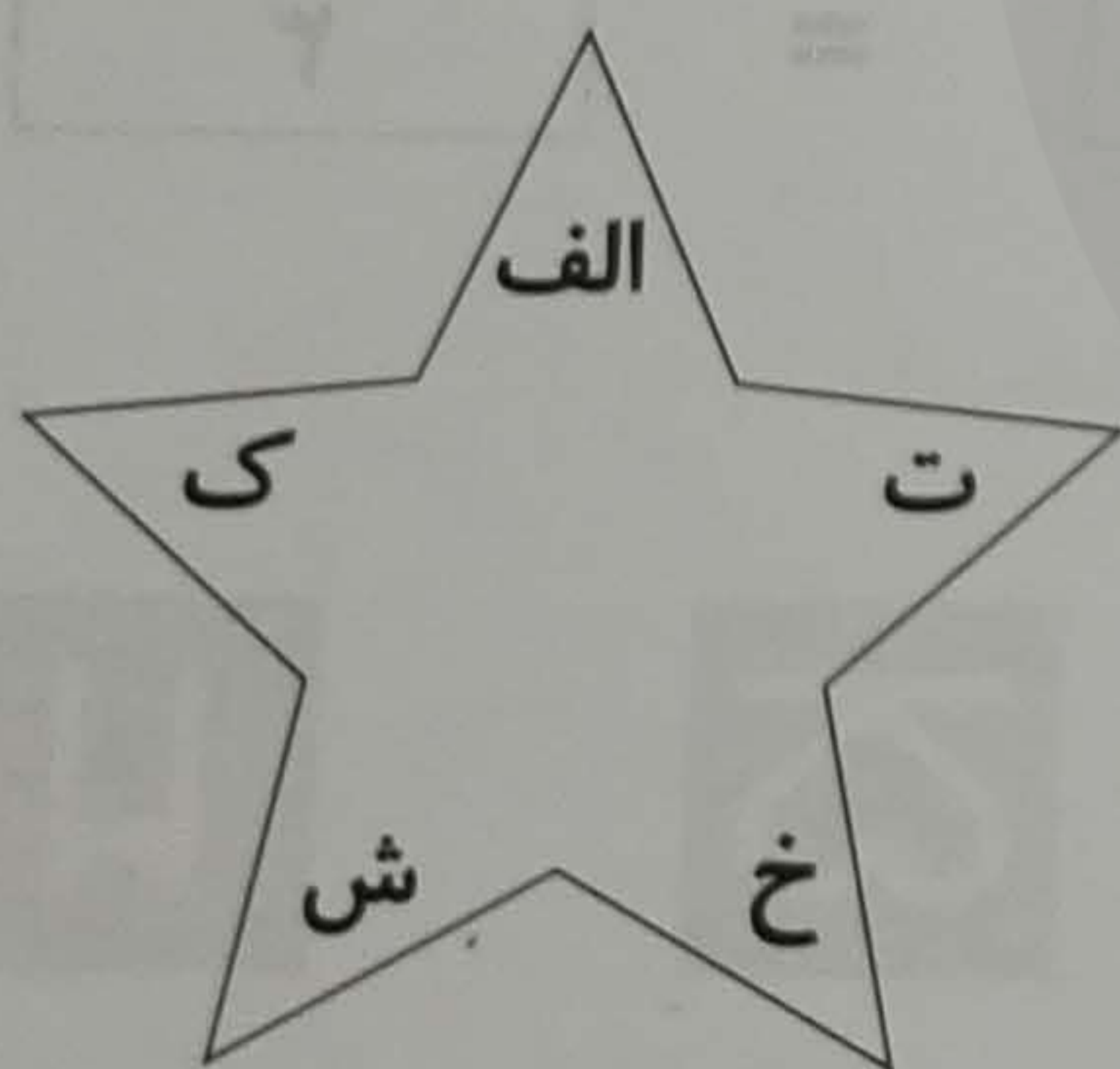
۱۸

در این تساوی‌ها اگر سگ معادل عدد ۵ باشد دیگر حیوانات هر کدام معادل چه عددی هستند؟

				= ۲۰
				= ۲۳
				= ۲۳
				= ۲۲

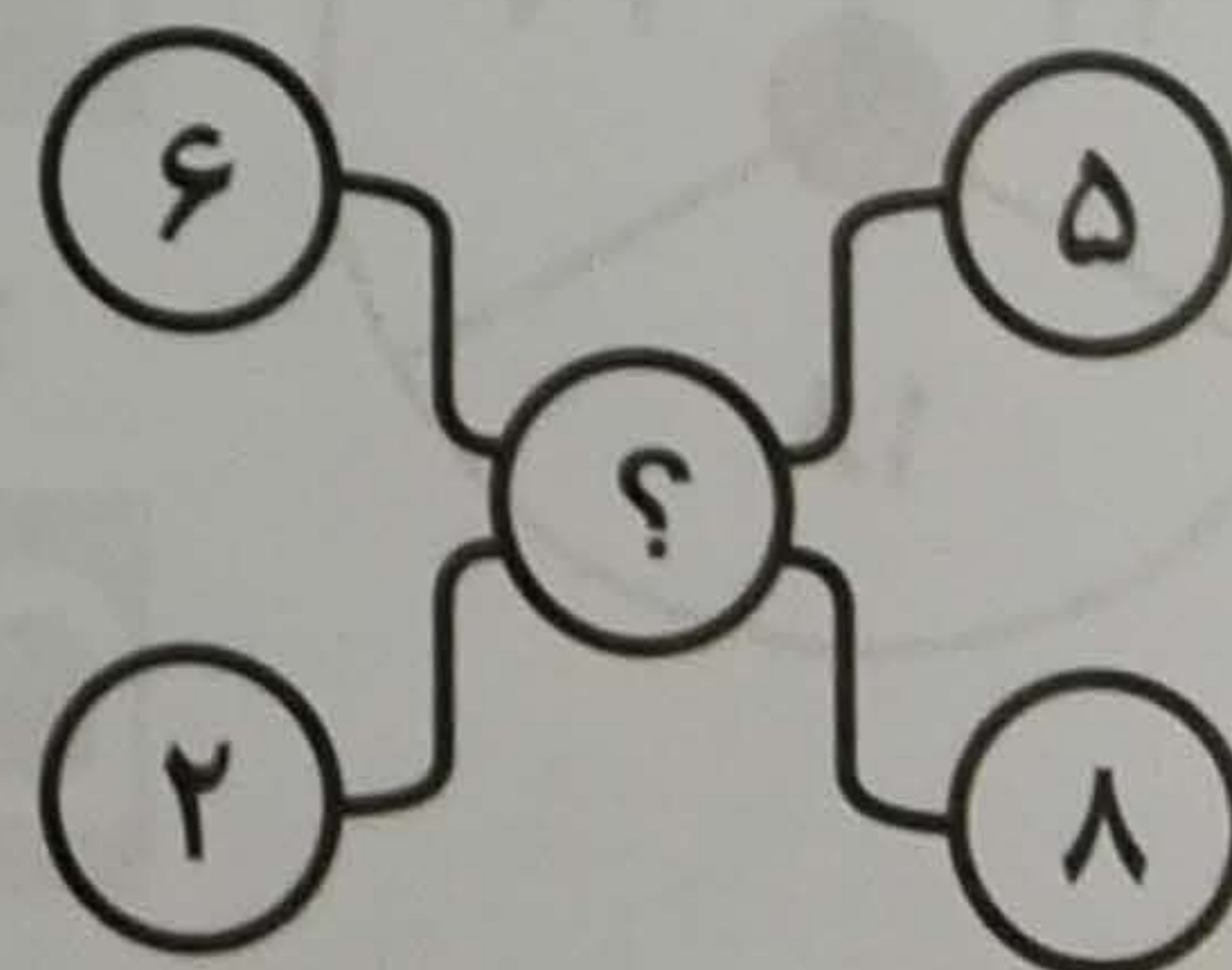
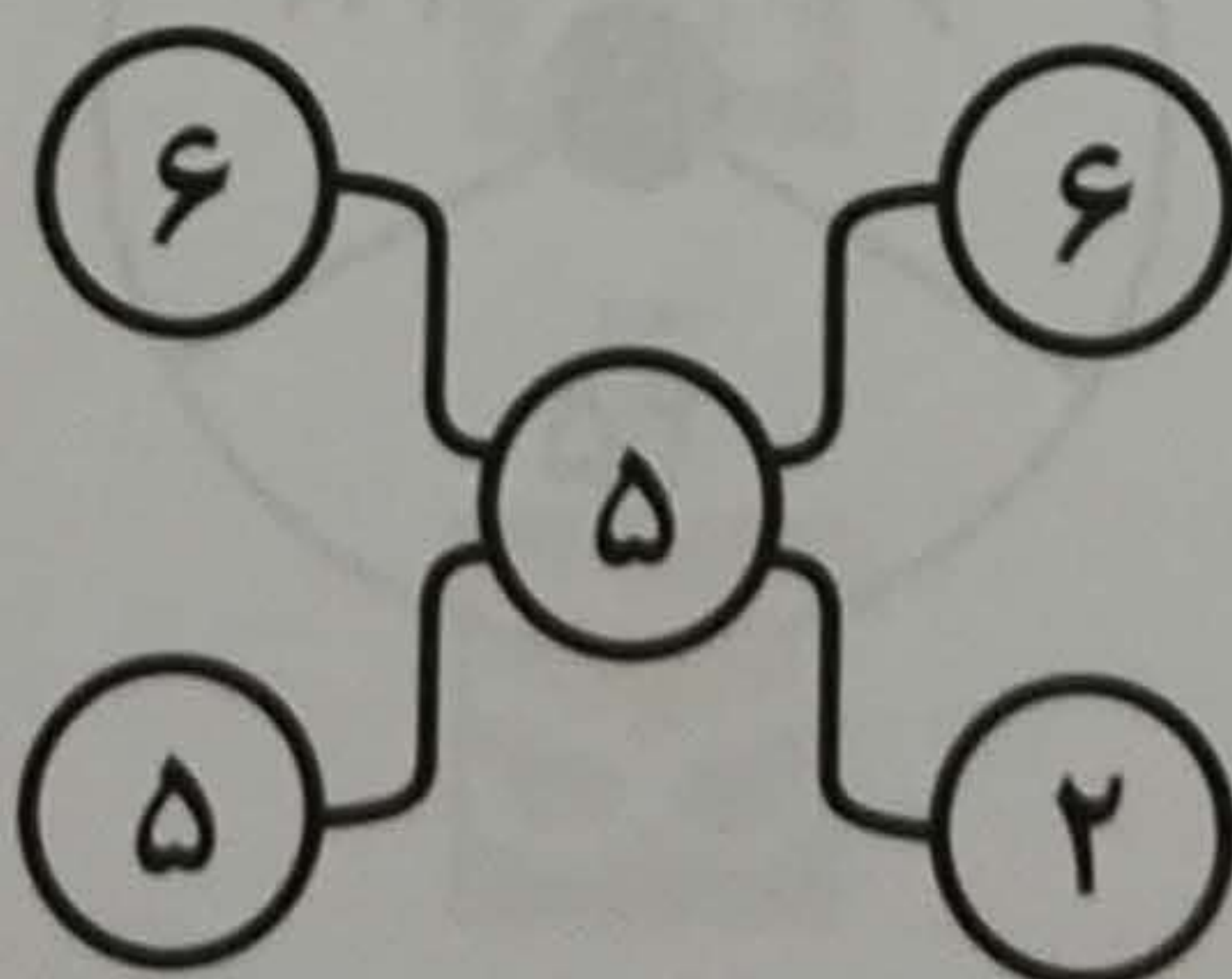
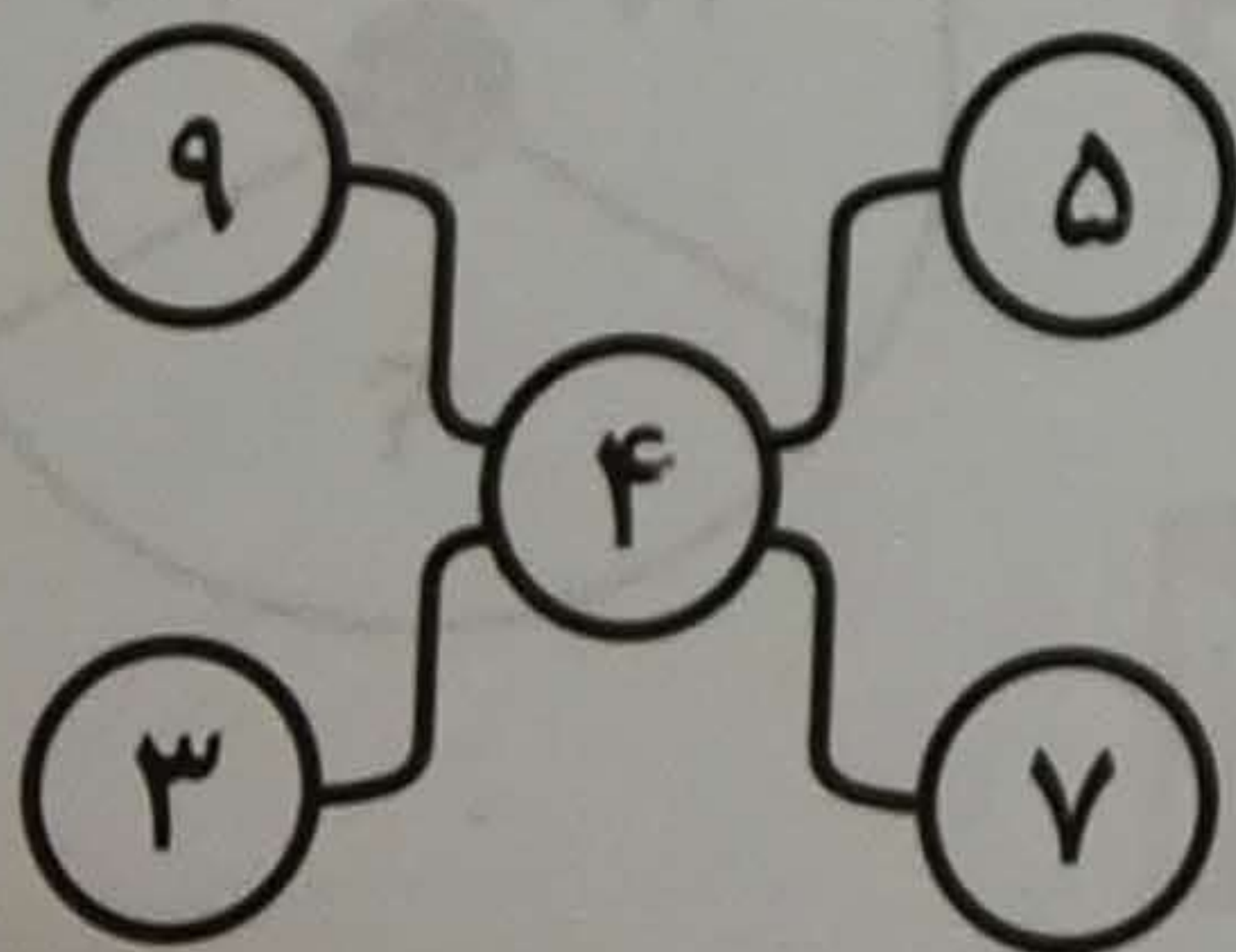
۱۹

به جای علامت سؤال چه حرفی باید نوشت؟
فروشگاه تخصصی شطرنج



۲۰

به جای علامت سؤال چه عددی باید نوشت؟



ضریب هوش خود را تقویت کنید

همه ما انسانها دارای هوش هستیم
ولی به ندرت از ظرفیت هوش خود به طور کامل بهره می گیریم

IMPROVE YOUR IQ

این کتاب حاوی تعداد زیادی معماهای هوش چالش برانگیز است که به کمک آنها می توانید توانمندی های ذهنی خود را مورد ارزیابی و سنجش قرار دهید.
برای حل هر یک از معماهای این کتاب باید از منطق، تمرکز و تفکر خود بهره گیرید.
معماها در ۲۰ سری، از ساده به پیشرفته، تنظیم شده اند و با حل آنها قادر خواهید بود هنر و خلاقیت حل مسائل را به تدریج در خود تقویت کنید.
با این کتاب برای ساعتها به فعالیت فکری لذتبخشی مشغول خواهید شد و سرگرمی های جالبی را تجربه خواهید کرد.

WWW.ACHMAZSTORE.IR

www.shabahangbook.com



انتشارات شباهنگ

